



وزارة التربية  
إدارة الشؤون التعليمية  
مؤابية الامتحانات وشؤون الطلبة



نموذج الإجابة

المرحلة المتوسطة

( كامل المنهج )

اختبارات نهاية الفترة الدراسية الثاني

المادة : الاجتماعيات

الصف : السابع

العام الدراسي

2018 / 2017



## السؤال الأول موضوعي يتكون من ( أ - ب - ج - د - هـ )

## أ : أكمل الجمل التالية بما يناسبها من كلمات مما درست :- ( لكل جزئية درجة ) 7 درجات

1. تبلغ مساحة الوطن العربي 13.5 مليون كم<sup>2</sup>. ص 23
2. أعلن عن قيام مجلس التعاون الخليجي في عام 1981م . ص 181
3. توجد محطة الشويخ لتحلية مياه البحر في دولة عربية تسمى الكويت ص 61
4. عقد مؤتمر قمة الأرض لمكافحة التلوث عام 1992م في دولة تسمى البرازيل ص 167
5. يمتد الوطن العربي بين قارتي اسيا و إفريقيا ص 21
6. الزيادة غير طبيعية في عدد السكان تكون عن طريق الهجرة ص 106
7. عرفت الكتابة المصرية القديمة باسم الهيروغليفية ص 77

7

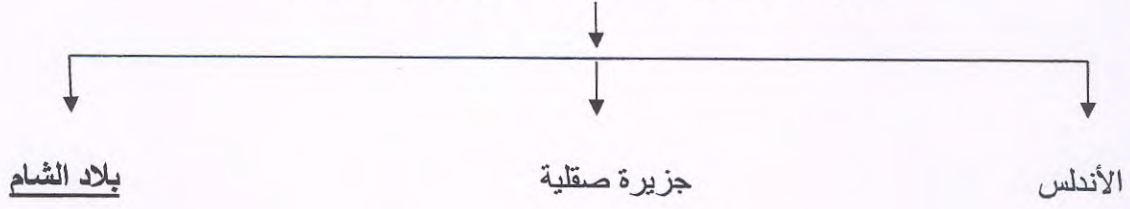
## ب: اختر الاجابة المناسبة من بين الأقواس : ( لكل جزئية درجة ) 6 درجات

1. من الحبوب الغذائية بالوطن العربي : ص 113  
( القطن - الزيتون - القمح - العنب )
2. عاصمة دولة حمير مدينة تسمى : ص 85  
( طيبة - قرناو - مأرب - ريدان )
3. تهب رياح الخماسين المحلية على دولة عربية تسمى : ص 48  
( الجزائر - السعودية - مصر - سوريا )
4. صاحب فكرة انشاء الصندوق الكويتي للتنمية الاقتصادية هو الشيخ : ص 184  
( عبدالله السالم - جابر الاحمد - صباح الاحمد - صباح السالم )
- 5- عدد دوائر العرض : ص 32  
( 160 - 170 - 180 - 190 )
- 6- يصب نهري دجلة والفرات في : ص 58  
( البحر الابيض المتوسط - البحر الاحمر - الخليج العربي - المحيط الاطلسي )

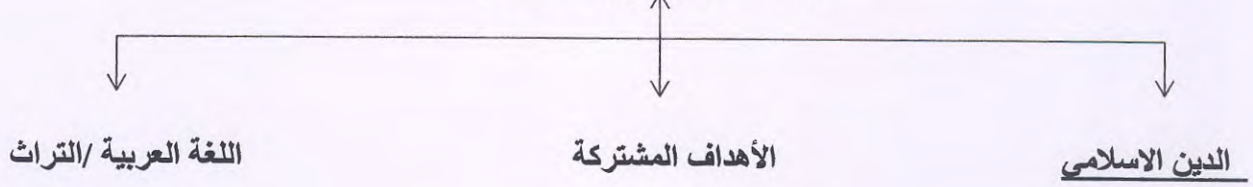
6

ج: أكمل المخطط السهمي التالي : ( لكل جزئية درجة 5 درجات

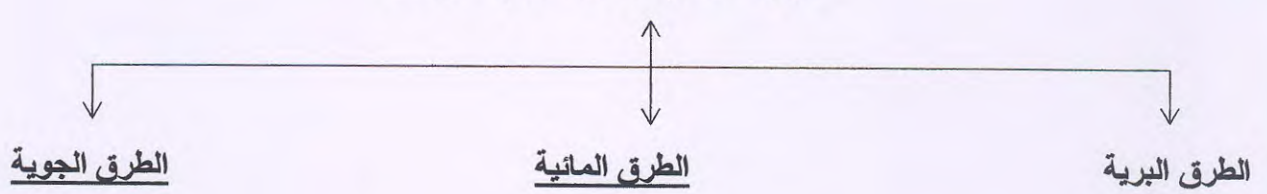
معابر انتقال الحضارة الاسلامية الى أوروبا ص 92



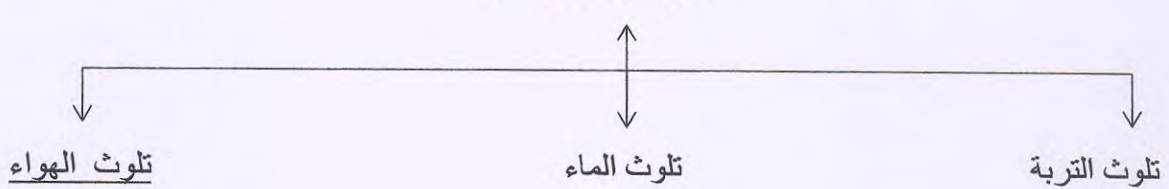
مقومات الهوية العربية ص 26



طرق النقل في الوطن العربي ص 147



أنواع التلوث ص 167

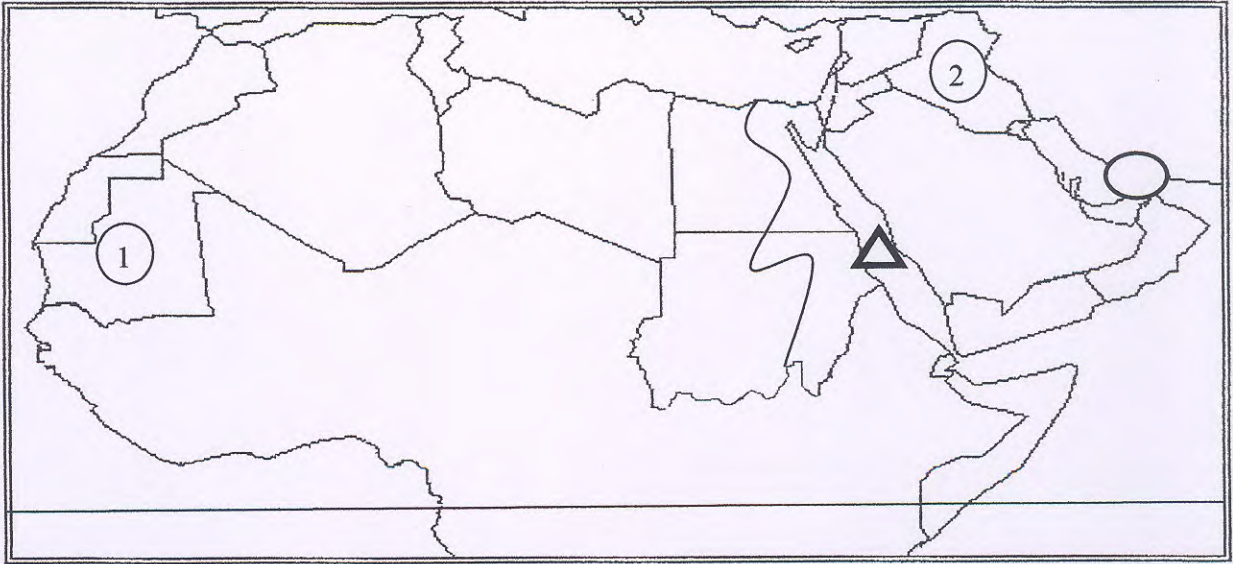




د : اكتب اسم المصطلحات التالية بين القوسين : ( لكل جزئية درجة ) 6 درجات

1. وزن الهواء فوق أي مكان . ( الضغط الجوي ) ص 44
2. اسم أطلق على البحرين في مرحلة النفوذ الفارسي نسبة إلى صنم كانت تعبده قبيلة وائل. ( أوال ) ص 89
3. زحف الرمال على المناطق الجافة وشبه الجافة ( التصحّر ) ص 162
4. ممر مائي ضيق يصل بين بحرين او محيطين ( المضيق ) ص 28
5. تزايد عدد السكان من عام لآخر نتيجة للزيادة الطبيعية و الهجرة ( النمو السكاني ) ص 106
6. برامج تحسين نوعية الحياة ولا تتحقق إلا بمشاركة جميع المواطنين ( التممية المستدامة ) ص 175

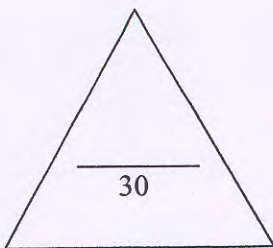
6

و : لاحظ خريطة الوطن العربي الصماء ثم نفذ عليها المطلوب منك : ( لكل جزئية درجة ) 6 درجات



1. الرقم ( 1 ) يشير الي الدولة العربية الاولى في انتاج الحديد تسمى موريتانيا 132
2. الرقم ( 2 ) يشير إلى حضارة قديمة تسمى بلاد الرافدين ص 71
3. حدد موقع مضيق هرمز وضع عليه الرمز  ص 28
4. حدد موقع بحر الاحمر وضع عليه الرمز  ص 28
5. ارسم خط الاستواء بمكانه الصحيح على الخريطة ص 31
6. ارسم نهر النيل على الخريطة ص 149

6



أ : بم تفسر ( انكر السبب ) : ( لكل جزئية درجة ) 6 درجات

- (1) أهمية النفط العربي على المستوي العالمي  
- ضخامة الإنتاج وتزايد باستمرار .  
- انخفاض تكلفة إنتاج البرميل الواحد .  
ص 131
- (2) المناطق القريبة من خط الاستواء تتميز بارتفاع درجة الحرارة بها طوال العام  
- لأن أشعة الشمس تكون عامودية عليها .  
ص 49
- (3) قلة التبادل التجاري بين دول الوطن العربي  
- تشابه المنتجات العربية - منافسة المنتجات الأجنبية - المشكلات السياسية بين بعض الدول العربية  
- ضعف شبكة الطرق والمواصلات التي تربط بين الدول العربية .  
ص 152
- (4) اهتمام المصريون القدماء بتحنيط جثث موتاهم  
- لاعتمادهم في البعث والخلود  
ص 76
- (5) أهمية القطاع الزراعي في اقتصاد الدول العربية  
- توفر فرص العمل - المادة الخام - الغذاء  
ص 110
- (6) عرف سكان بلاد الرافدين الزراعة .  
- خصوبة تربتها - سعة سهولها - وفرة مياهها العذبة  
ص 81

ب: فرق بين كل من : ( لكل جزئية درجة ) 4 درجات

الموارد البشرية	الموارد الطبيعية
هي الموارد المتعلقة بالسكان من حيث عددهم وتوزيعهم ص 109	هي الثروات التي منحها الله تعالى لاقليم دون تدخل الانسان ص 109
المناخ	الطقس
حالة الجو خلال فترة زمنية طويلة من حيث درجة الحرارة والرطوبة والامطار .. ص 44	حالة الجو في مكان لمدة قصيرة تتراوح بين يوم و عدة ايام من حيث الحرارة والرطوبة الامطار الرياح والضغط الجوي .. ص 44

ج: عرف المفاهيم التالية : ( لكل جزئية درجة ) 5 درجات

- (1) تنمية المستدامة : عبارة عن برامج تحسين نوعية الحياة .  
ص 175
- (2) سهول : مساحة كبيرة من سطح الأرض تتميز باستوائها وقلة ارتفاعها .  
ص 42
- (3) الموقع النسبي : هو موقع الدولة بالنسبة لليابسة الماء .
- (4) تضامن عربي : توثيق الصلات بين الدول العربية .  
ص 177
- (5) تجارة بينية : التبادل التجاري بين الدول العربية .  
ص 151

6

4

5

15

السؤال الثالث مقالتي يتكون من أ - ب - ج : ( لكل جزئية درجة ) 8 درجات

أ : أكتب نقطتين فيما يلي :

1- المقومات البشرية لقيام الصناعة . ص 139

- رؤوس الأموال - الأيدي العاملة - المهارة والخبرة - السوق - وسائل النقل

2- العوامل التي ساعدت على قيام الحضارة المصرية القديمة . ص 75

- نهر النيل - المناخ - الموقع الجغرافي

- امتداد الصحراء - تنوع الصخور وكثرة المعادن

3- العوامل المؤثرة في مناخ الوطن العربي . ص 46

- الموقع بالنسبة لليابس والماء - القرب او البعد عن المسطحات المائية

- التضاريس - الرياح

4- مصادر المياه في الوطن العربي

مياه الأنهار - الامطار - المياه الجوفية - البحيرات - مياه البحار ص 57

ب: قارن بين كلا من :

1- منظمة الاوبك ومنظمة الاوابك حسب الجدول التالي ص 134-135 ( لكل جزئية نصف درجة ) 4 درجات

وجه المقارنة	منظمة الاوبك	منظمة الاوابك
المقر	فيينا	الكويت
عام التأسيس	1960م	1968م

2- خطوط الطول و دوائر العرض

وجه المقارنة	خطوط الطول	دوائر العرض
خط الأساس	جرينتش	الاستواء
الأهمية	تحديد الوقت والزمن	معرفة الاحوال والمناطق المناخية

ج : أقرأ الفقرة التي امامك ثم أجب عن الأسئلة التي تليها : ( لكل جزئية درجة ) 3 درجات

" المجتمعات لا يمكن أن تتقدم أو تنمو اقتصاديا أو سياسيا أو اجتماعيا بدون إعداد القوة البشرية فمن أهداف التنمية البشرية توفير فرص العمل والرعاية الصحية والقضاء على الفقر .

أذكر محاور التنمية الرئيسية . ص 173 يكتفى بنقطة

- التنمية الاقتصادية - التنمية المستدامة - التنمية البشرية

أذكر أهداف التنمية البشرية . ص 174 يكتفى بنقطتين

- الاهتمام بالطفل العربي - كيف يتم توظيف قدرات الانسان العربي - رفع كفاءة الثروة البشرية

- تعميق المشاركة في الرأي والحوار - توفير فرص العمل والرعاية الصحية والقضاء على الفقر

انتهت الأسئلة مع تمنياتنا لكم بالتوفيق